

すてっぱ3のぺえじ



すてっぱ3は、
「たしざん？ ひきざん？ えをみてみやがる術」^{じゅつ}について べんきょうをするよ。
できたもんだいに ○をかこう。

3-1-1

1	
2	
3	
4	



3-1-2

1	
2	
3	
4	

3-1-3

1	
2	
3	
4	

3-2-1

1	
2	
3	
4	

3-2-2

1	
2	
3	
4	

3-2-3

1	
2	
3	
4	



○がぜんぶで 20こより たくさんある きみ。



きみは、「たしざん？ ひきざん？ えをみてみやがる術」^{じゅつ}をみにつけた。


たしざん ひきざん このけいさんでつかうのは どちら？ ○をつけてこたえましょう。

1 かみが 7まい あります。
5まい つかうと のこりは
なんまいに なりますか。




このもんだいは(たしざん・ひきざん)をつかってこたえます。

2 うしが 8とう います。
4とう へると のこりは
なんとうに なりますか。




このもんだいは(たしざん・ひきざん)をつかってこたえます。

3 ほんは ぜんぶで なんさつに なりますか。



このもんだいは(たしざん・ひきざん)をつかってこたえます。


4 あかちゃんが ひとりうまれると みんなで なんにん
でしょう。



このもんだいは(たしざん・ひきざん)をつかってこたえます。


たしざん ひきざん このけいさんでつかうのは どちら？ ○をつけてこたえましょう。

1 けえきと どおなつを あわせると なんこ ですか。



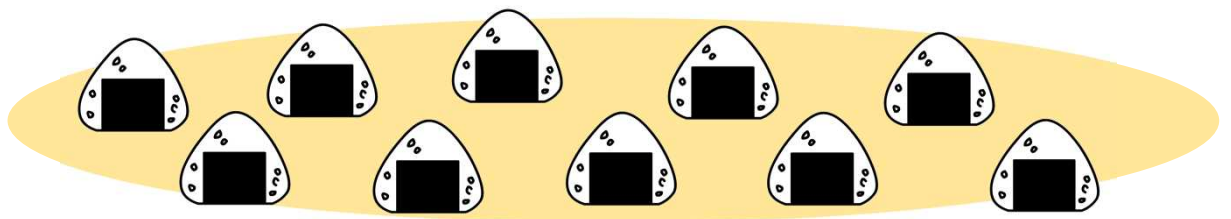
このもんだいは(たしざん・ひきざん)をつかってこたえます。

2 はとが 7わ います。
6わ とんでいくと なんわ のこりますか。




このもんだいは(たしざん・ひきざん)をつかってこたえます。

3 おにぎりが10こあります。
6こ たべると なんこ のこりますか。



このもんだいは(たしざん・ひきざん)をつかってこたえます。

4 からすと すずめを あわせると なんわに なりますか。



このもんだいは(たしざん・ひきざん)をつかってこたえます。

「たすのかな ひくのかな」 3-1-3

STEP03 キーワードのある／ない絵+文を読み、たし算・ひき算を判断(混合)



たしざん ひきざん このけいさんでつかうのは どちら? ○をつけてこたえましょう。

1 ギゆうにゆうの ほうが なんぼん おおいでしょう。




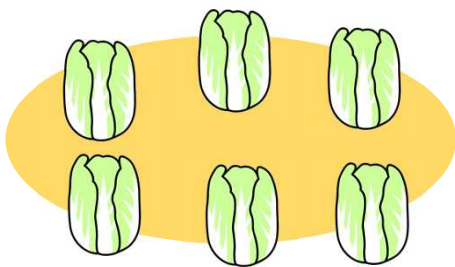
このもんだいは(たしざん・ひきざん)をつかってこたえます。

2 きんぎょと こいを あわせると なんびきですか。




このもんだいは(たしざん・ひきざん)をつかってこたえます。

3 はくさいと だいこんの かずのちがいは いくつですか。



このもんだいは(たしざん・ひきざん)をつかってこたえます。

4 かばのほうが なんとか すくないでしょう。



このもんだいは(たしざん・ひきざん)をつかってこたえます。

こたえの9と10ぺえじをみて こたえあわせをしよう。

たしざん ひきざん このけいさんでつかうのは どちら？ ○をつけてこたえましょう。

1 くじが10こ はいっている くじびきを しました。

あたりは 7こです。

はずれは なんこですか。



あたり

あたり

あたり

あたり

あたり

あたり

あたり

はずれ

はずれ


はずれ

このもんだいは(たしざん・ひきざん)をつかってこたえます。

2 ねこが 6ぴきいます。

しろねこは 2ひきです。


みけねこは なんびきいるでしょう。



このもんだいは(たしざん・ひきざん)をつかってこたえます。

3 ぼくじょうに うまが 4とうと うしが 3とう だけいます。

ぼくじょうに どうぶつは あわせて なんとう いるでしょう。

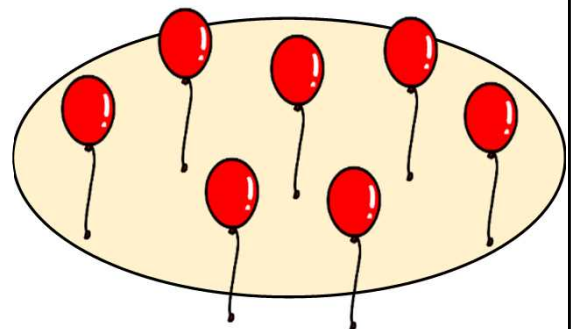


このもんだいは(たしざん・ひきざん)をつかってこたえます。

4 ふうせんが 7こ あります。

ふうせんを あと4こ ふくらませると


ふうせんは なんこになるでしょう。



このもんだいは(たしざん・ひきざん)をつかってこたえます。

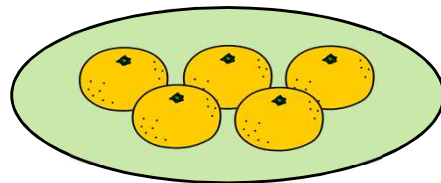
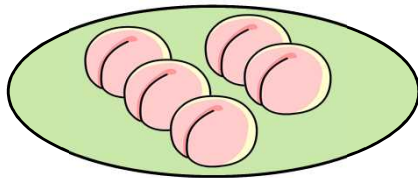
たしざん ひきざん このけいさんでつかうのは どちら？ ○をつけてこたえましょう。

1 とうもろこしが 8ぽん あります。
あと4ぽん とうもろこしを かうと
なんぽんに なりますか。



このもんだいは(たしざん・ひきざん)をつかってこたえます。

2 おみせで ももと みかんを うっています。
ももと みかんを あわせると なんこに なりますか。



このもんだいは(たしざん・ひきざん)をつかってこたえます。

3 こうひいが 7はい あります。
2はいのむと あとなんばいに なりますか。



このもんだいは(たしざん・ひきざん)をつかってこたえます。

4 せんべいが 12まい あります。
せんべいを 7まいたべると あとなんまいに なりますか。



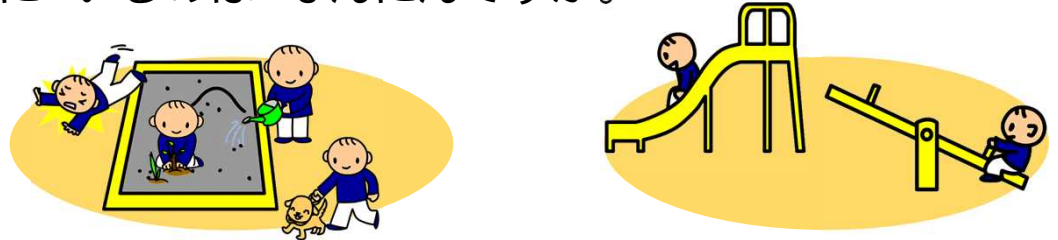
このもんだいは(たしざん・ひきざん)をつかってこたえます。

「たすのかな ひくのかな」 3-2-3

STEP03 キーワードのある／ない絵+文を読み、たし算・ひき算を判断(混合)

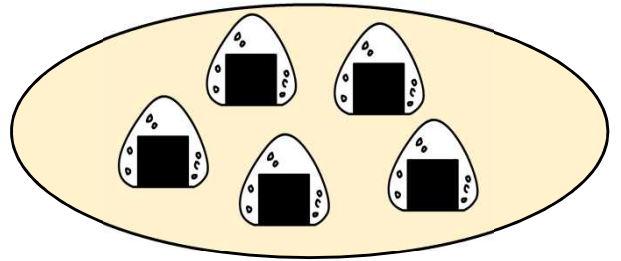
たしざん ひきざん このけいさんでつかうのは どちら？ ○をつけてこたえましょう。

1 こうえんの すなばと ゆうぐで こどもが あそんでいます。
いま こうえんに いるのは なんにんですか。




このもんだいは(たしざん・ひきざん)をつかってこたえます。

2 おにぎりが 5こ ありました。
おにぎりを あと4こつくと
おにぎりは いくつになるでしょう。



このもんだいは(たしざん・ひきざん)をつかってこたえます。

3 ピンを 7ほんたおすと あとなんぼん たっているでしょう。



このもんだいは(たしざん・ひきざん)をつかってこたえます。

4 おぼんの うえに しろいかっぷが3こ きいろいかっぷが4こ
あります。おぼんの うえにある かっぷは
あわせていくつでしょう。



このもんだいは(たしざん・ひきざん)をつかってこたえます。